

# **Diagnosticējošā vērtēšana jeb ievadvērtēšana**

**Latvijas un pasaules vēstures piemērs  
10.klase**

**I semestra 2.stunda**

**1.uzdevums.** Aizvēsture. No cilvēkveidīgajiem (hominīdiem) līdz cilvēkam. Sakārto hronoloģiskā secībā!

- A) Homo habilis jeb prasmīgais cilvēks
- B) Homo sapiens jeb saprātīgais cilvēks
- C) Homo australopitecus jeb australopiteks
- D) Homo erectus jeb stāvus staigājošais cilvēks



**2.uzdevums.Cilvēces un civilizācijas vēstures periodizācija.  
Atzīmē 3 neatbilstošos un izveido zinātniski korektu cilvēces  
un civilizācijas vēstures periodizāciju!**

- A. Pirmatnējo cilvēku laiks**
- B. Aizvēsture**
- C. Vissenākie laiki**
- D. Senie laiki**
- E. Viduslaiki**
- F. Tumšie laiki**
- G. Jaunie laiki**
- H. Jaunākie laiki**



### 3.uzdevums. Aizvēstures hronoloģiskie ietvari (pasaules vēstures konteksts)

- A) 6 miljoni g.p.m.ē. – 5./6.gs.mija
- B) 2,5 miljoni g.p.m.ē. – 4./3.gt.p.m.ē. mija
- C) 1 miljons g.p.m.ē. – 4./3.gt.p.m.ē. mija
- D) 2,5 miljoni g.p.m.ē. – 5./6.gs.mija



## 4.uzdevums. Aizvēstures hronoloģiskie ietvari (Latvijas vēstures konteksts)

- A) 9 gt.p.m.ē. – 4./3.gt.p.m.ē.mija
- B) 15 gt.p.m.ē. – 12.gadsimts (m.ē.)
- C) 9 gt.p.m.ē. – 12.gadsimts (m.ē.)
- D) 9 gt.p.m.ē. – 5.gadsimts (m.ē.)



## 5.uzdevums. Šīs 8. – 9.gs. apmetnes rekonstrukcija atrodas



**A**  
Pie Burtnieku ezera

**B**  
Pie Alūksnes ezera

**C**  
Pie Āraišu ezera

**D**  
Pie Lubānas ezera

## 6.uzdevums. Kuru Latvijas vēstures posmu raksturo karte?



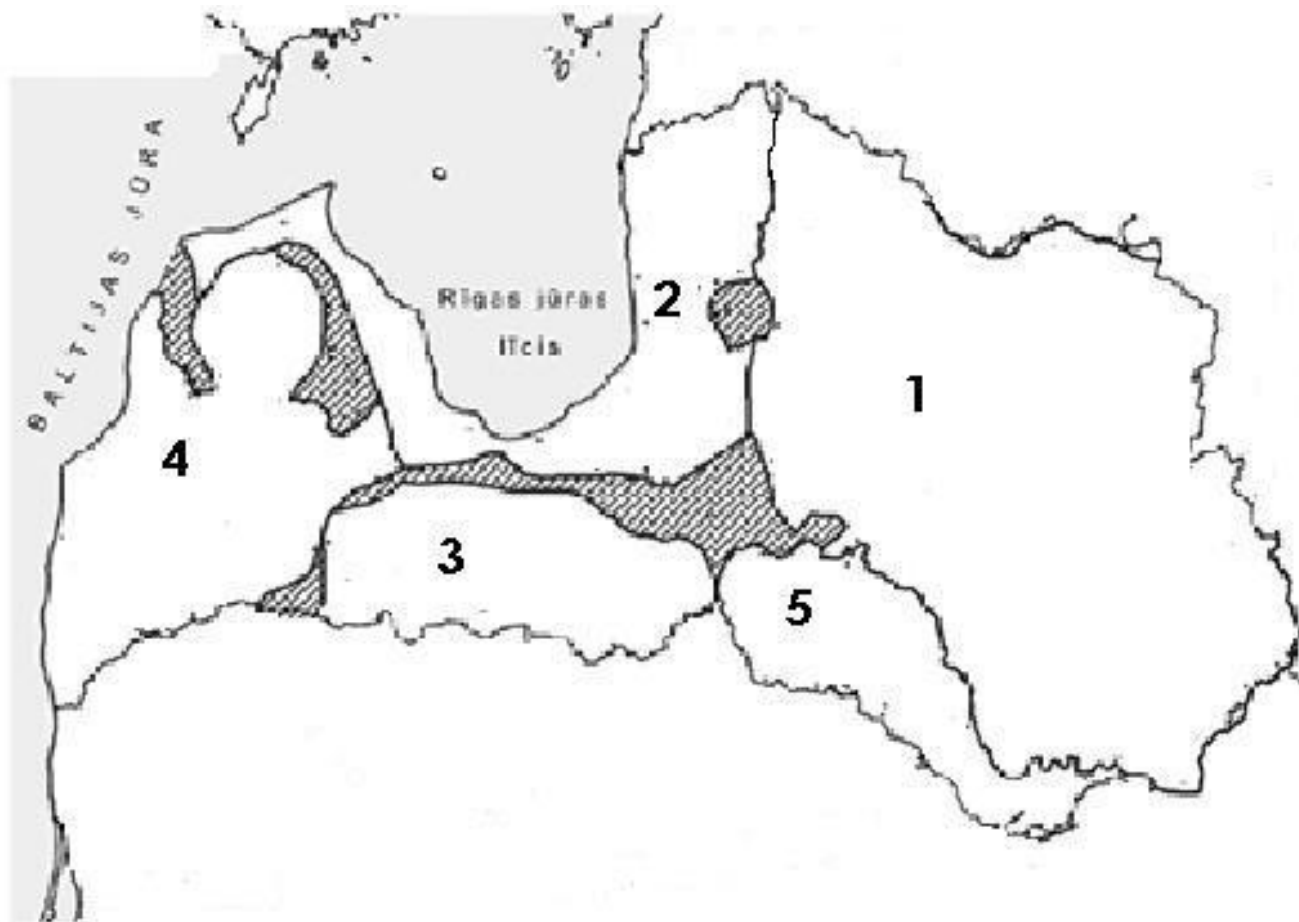
A  
2.gadsimts

B  
5.gadsimts

C  
12.gadsimts

D  
14.gadsimts

7.uzdevums. Izpēti kartoshēmu! Katram ciparam izvēlies un ieraksti atbilstošās Latvijas teritorijā dzīvojošās etniskās grupas nosaukumu! Nosaukumus izvēlies no piedāvātajām etniskajām grupām: **igauņi, kurši, sēļi, krievi, zemgaļi, lībieši, lietuvieši, latgaļi!**



1

2

3

4

5



## 6.uzdevums. Kuri no redzamajiem Seno laiku pasaules brīnumiem redzami arī mūsdienās?

A  
Ēģiptes  
piramīdas

B  
Aleksandrijas  
bāka

C  
Zeva statuja  
Grieķijā

D  
Valdnieka  
mauzolejs  
Halikarnasā

E  
Rodas salas  
koloss



## 7.uzdevums. Kuru Seno laiku civilizāciju raksturo valdnieces Nefretetes krūšutēls?

A  
Senā Grieķija

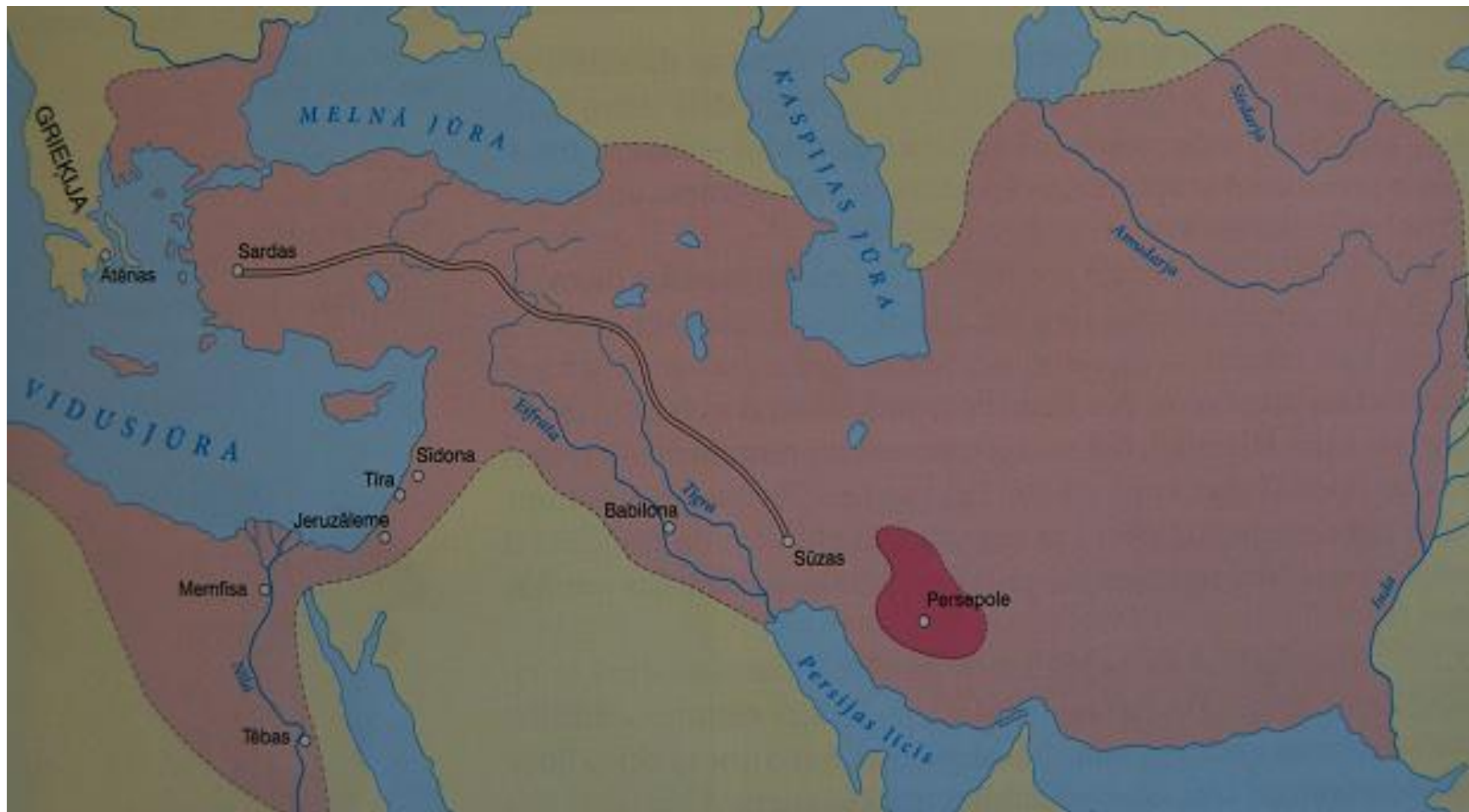
B  
Asīrija

C  
Senā Ēģipte

D  
Senā Roma



## 8.uzdevums. Kādas Seno Austrumu valsts / impērijas teritorija iezīmēta kartē?



A  
Ēģipte

B  
Asīrija

C  
Maķedonijas Aleksandra

D  
Persija

**9.uzdevums. Senās Grieķijas dzejnieks, kurš aprakstījis leģendārās Trojas ieņemšanu, izmantojot koka zirga statuju?**



**A**  
**Hērodots**

**B**  
**Sokrats**

**C**  
**Platons**

**D**  
**Homērs**

## 10.uzdevums. Sienas gleznojumā redzams



A

Gajs Jūlijs Cēzars

B

Maķedonijas Aleksandrs

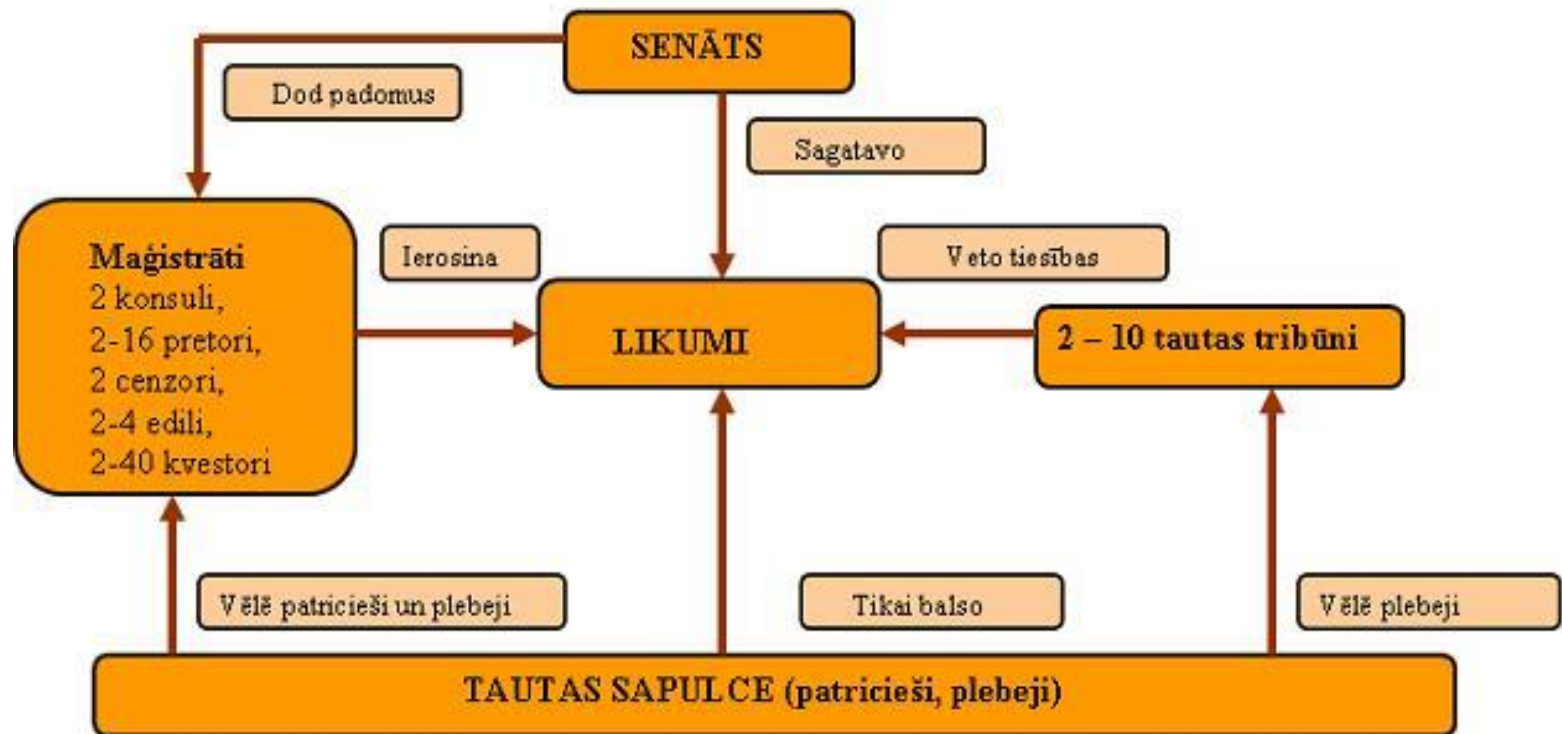
C

Perikls

D

Razmess II

# 11.uzdevums. Kāda Seno laiku valsts pārvaldes sistēma attēlota shēma?



A  
Atēnu pilsētvalsts

B  
Senā Roma

C  
Senā Jūdeja

D  
Romas impērija

## 12.uzdevums. Attēlā redzams vulkāna izvirdums, kas Romas impērijas laikā nopostīja

A  
Romu

B  
Atēnas

C  
Pompejas

D  
Aleksandriju



# 13.uzdevums. Kādu viduslaiku laika pomu Eiropas vēsturē parāda karte?



A  
4.gadsimts

B  
8.gadsimts

C  
12.gadsimts

D  
13.gadsimts



## 14. Pirmā mūra pils Baltijā uzcelta



A  
Raunā

B  
Turaidā

C  
Cēsīs

D  
Ikšķilē

14.uzdevums. Kāda Latvijas viduslaiku vēstures perioda personība attēlota šajā skulptūrā?



A  
Bīskaps Meinards

B  
Bīskaps Bertolds

C  
Bīskaps Alberts

D  
Mūks Teodrihs